

به نام خدای دوست داشتنی

نام دانشمند کوچکم:

دهستان فدک نور

آموزگار: عطیعی

ارزشیابی ریاضی نوبت اول





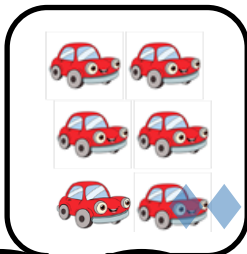
الف- قشنگم دومین شکل را از سمت راست رنگ بزن.

ب- پسر سمت چپ درخت یک گل بکش.



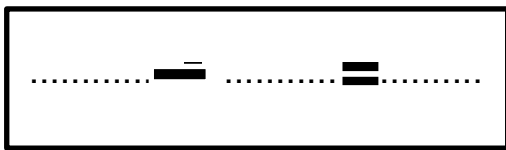

۱

ریاضیدان من عدد هر دسته را با عدد و چوب خط نشان بده.



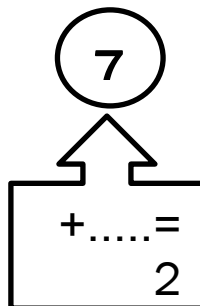
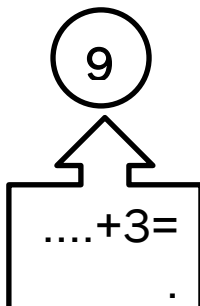
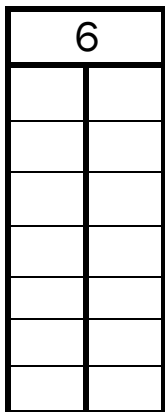
2

برای شکل زیر یک تقریب بنویس و حاصل را پیدا کن.



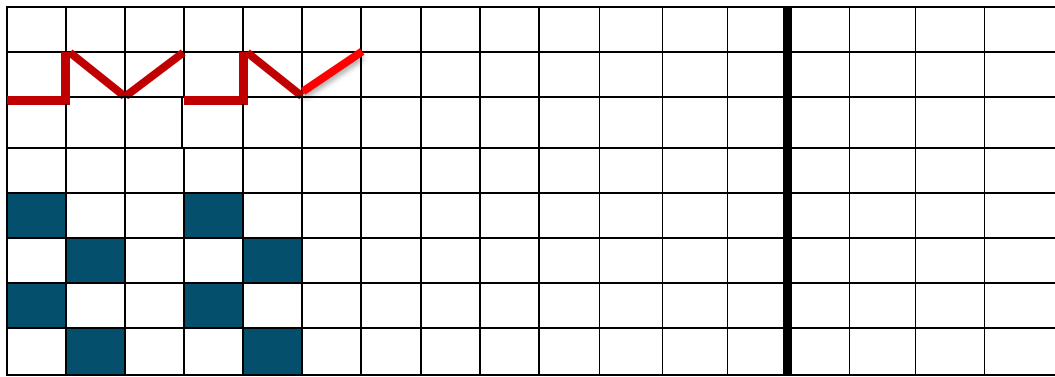
3

در جاهای خالی عدد مناسب را بنویس.

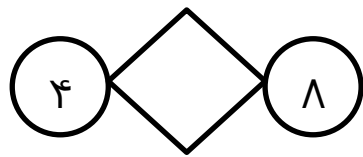
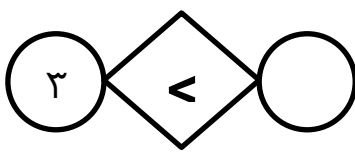
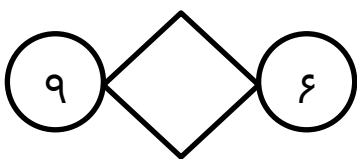


4


۵ الگوها را ادامه بده و شکل تکرار شده را سمت راست بکش.




۶ بین دو عدد علامت <=> قرار بده و یا طرف دیگر عدد مناسب بنویس.



۷ قشنگم در جاهای خالی عدد مناسب را بنویس.



..... - 3 =



..... + =

۸ دلبندم جدول شگفت انگیز را کامل کن.




۱	۴	۶		۲	۳
۲	۵		۶	۴	۱
۶	۱	۲		۳	۵
۵	۳			۶	۲
	۶	۱		۵	۴
۴		۵	۳		۶

9 باهوشم اعداد قیل و بعد نوشته شده را بنویس.

		2				7			
--	--	---	--	--	--	---	--	--	--

		6			
--	--	---	--	--	--

10 قشنگم به هر شکل دوتا اضافه کن و عدد را بنویس.



11 دانشمند کوچکم برای جمع و تفریق شکل بکش و جواب را بنویس.


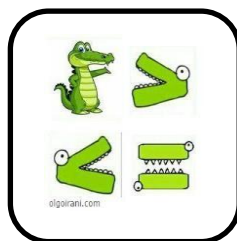
$$4 + 3 =$$

$$8 - 2 =$$

12 پاسخ هر قسمت را با قسمت دیگر مقایسه کن و علامت مناسب را انتخاب کن.




$$\dots + \dots =$$




$$\dots - \dots =$$

♥ موفق باشی ریاضیدان کوچکم ♥

باز خورد آموزگار



ن ت	ق ق	خ	خ خ	معیار ها و انتظارات
				مفهوم چپ و راست را به درستی تشخیص می دهد.
				تعداد اشکال و چوب خط آن را به طور صحیح می نویسد.
				عبارت تفریق را همراه با شکل به درستی انجام می دهد.
				حاصل جمع و ترکیب جمع یک عدد را به درستی می نویسد.
				الگو یابی را به طور صحیح انجام می دهد.
				جدول سودوکورا به درستی می نویسد.
				اعداد را تا ۱۰ به ترتیب می تواند به درستی بنویسد.
				برای عبارات جمع و تفریق می تواند به طور صحیح شکل بکشد.



جزوه سیتی